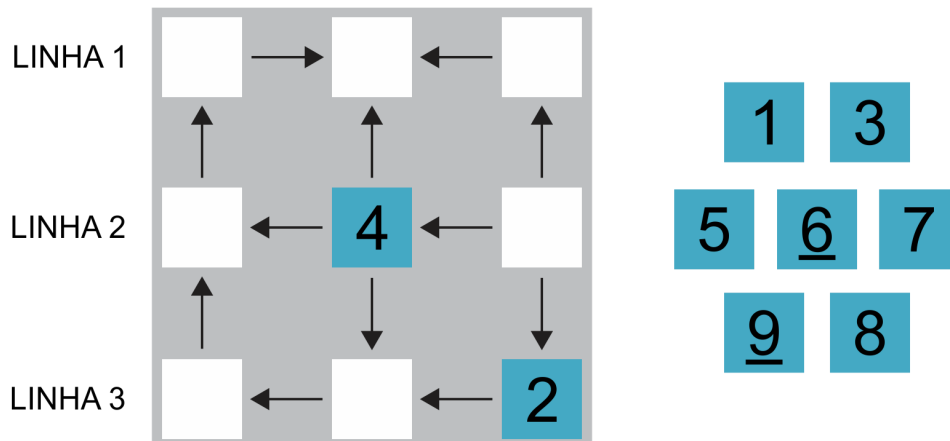
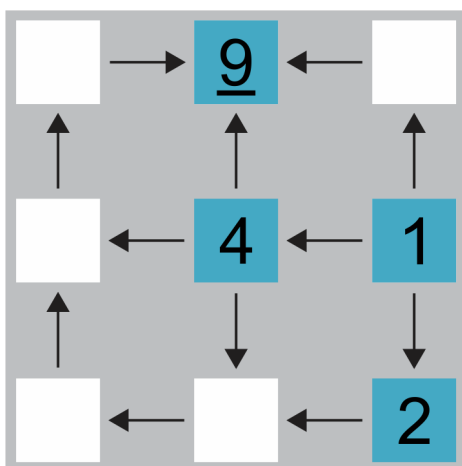


Discussão

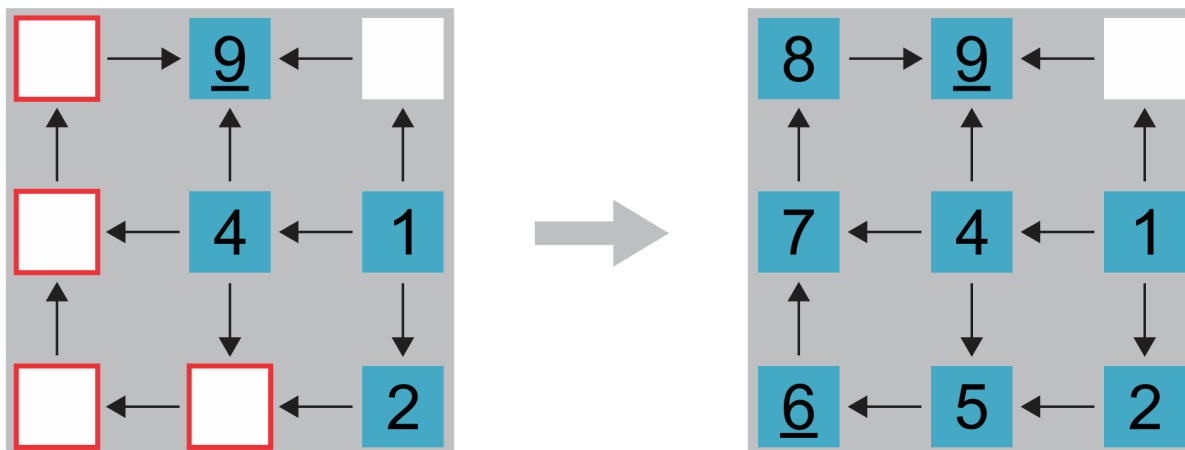
Para começarmos a discussão deste desafio, lembremos que Pedro deve distribuir as fichas nas casas do tabuleiro, de modo que cada flecha aponte para uma ficha de número maior.



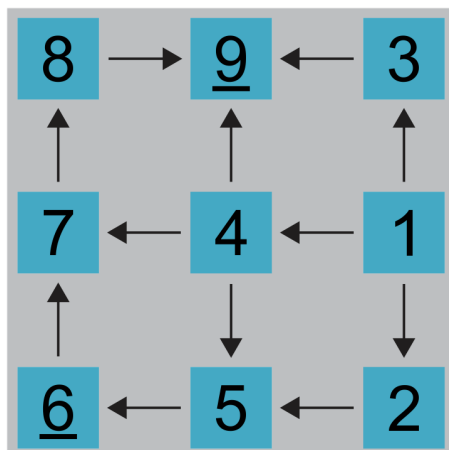
Notemos que a 3ª casa da linha 2 é a única que não possui flechas apontando para ela. Além disso, a 2ª casa da linha 1 é a única que não possui flechas saindo dela. Portanto, Pedro deve colocar, nessas casas, as fichas 1 e 9, respectivamente.



Agora, Pedro está com as fichas 3, 5, 6, 7 e 8. Observemos que, nas quatro casas marcadas na figura abaixo, ele deverá colocar as fichas 5, 6, 7 e 8 pois esses são os números maiores do que 4 e menores do que 9.



Por fim, na última casa, Pedro deverá colocar a ficha 3.



Elaborado na UFMG por Aniura Milanés Barrientos,
Bianca Silva Andrade,
Carmen Rosa Giraldo Vergara,
Leandro Augusto Rodrigues Araújo,
Nora Olinda Cabrera Zúñiga,
e Tacyany da Silva Pereira Melo.