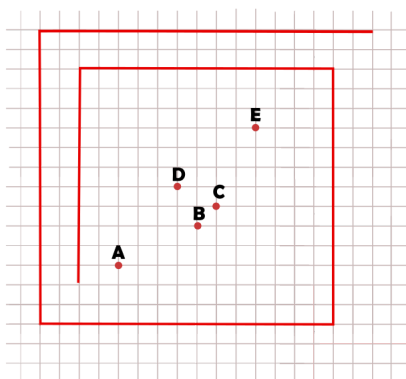
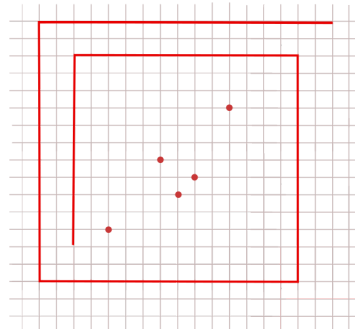
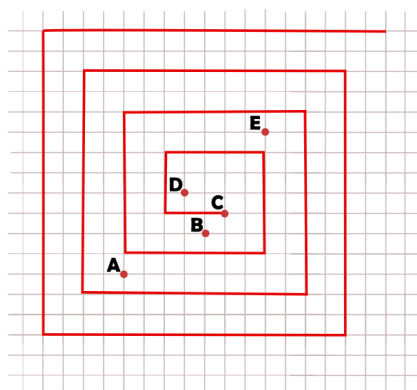


## Discussão

Observemos o desenho de Paulo na malha quadriculada.



Paulo pode continuar o desenho a fim de descobrir por qual dos cinco pontos indicados abaixo o caminho irá passar. Nomearemos esses pontos com as letras A, B, C, D e E.



Desta maneira, concluímos que o caminho passará pelo ponto C.

**Elaborado por** Aniura Milanés Barrientos,  
Bruno Flister Viana,  
Carmen Rosa Giraldo Vergara,  
Leandro Augusto Rodrigues Araújo,  
Nora Olinda Cabrera Zúñiga,  
e Taciany da Silva Pereira.