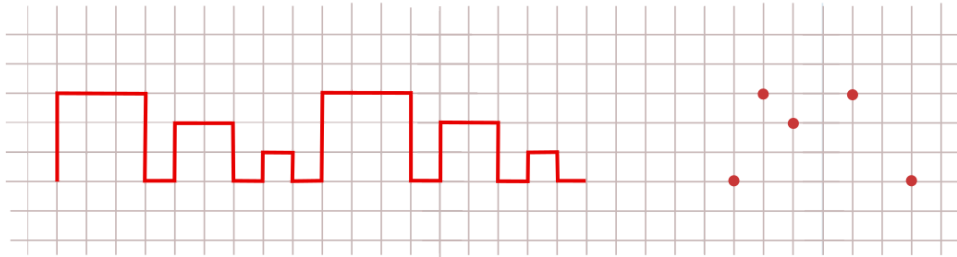
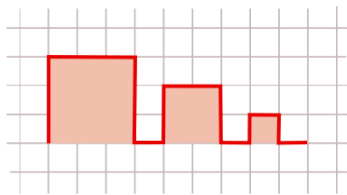


Discussão

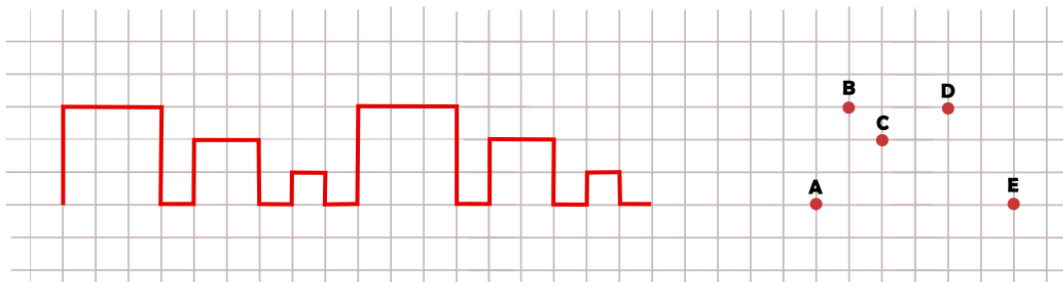
Observemos o desenho que Paulo fez na malha quadriculada.



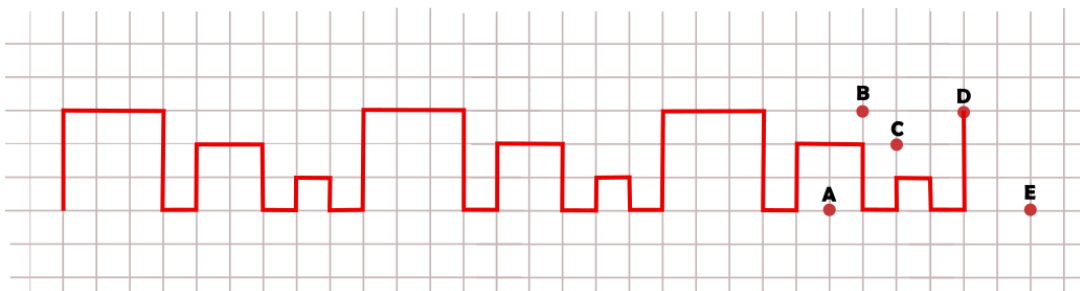
O desenho de Paulo é um caminho que segue o mesmo padrão sugerido abaixo.



Paulo pode continuar o desenho a fim de descobrir por qual dos cinco pontos indicados abaixo o caminho irá passar. Nomearemos esses pontos com as letras A, B, C, D e E.



Desta maneira, o caminho passará pelo ponto D.



Elaborado por Aniura Milanés Barrientos,
Bruno Flister Viana,
Carmen Rosa Giraldo Vergara,
Leandro Augusto Rodrigues Araújo,
Nora Olinda Cabrera Zúñiga,
e Taciany da Silva Pereira.