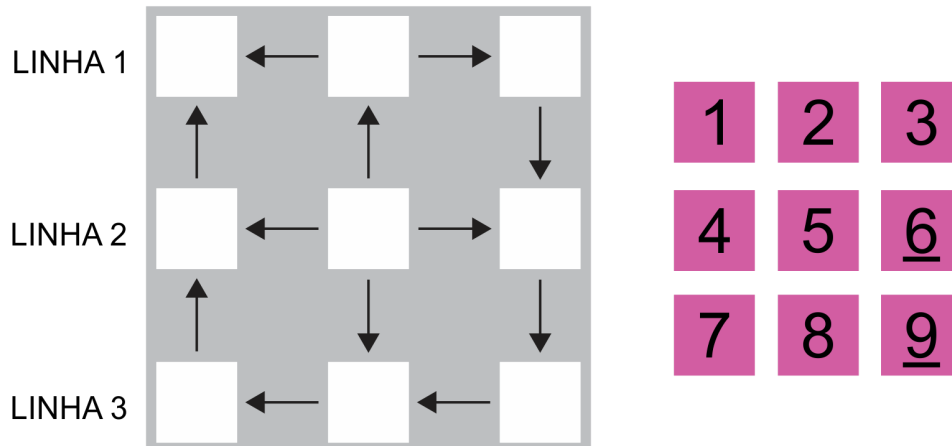
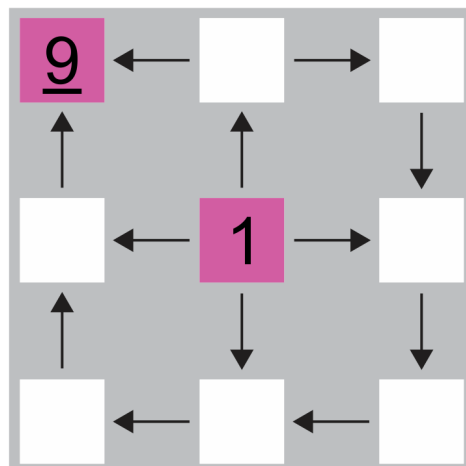


Discussão

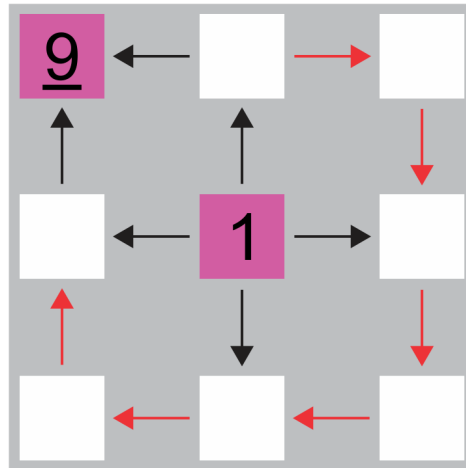
Para começarmos a discussão desse desafio, lembremos que Pedro deve distribuir as fichas nas casas do tabuleiro, de modo que cada flecha aponte para uma ficha de número maior.



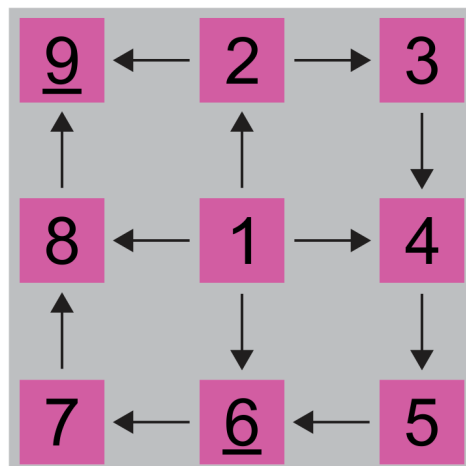
Notemos que a 2ª casa da linha 2 é a única que não possui flechas apontando para ela. Além disso, a 1ª casa da linha 1 é a única que não possui flechas saindo dela. Portanto, Pedro deve colocar, nessas casas, as fichas 1 e 9, respectivamente.



Agora, Pedro está com as fichas 2, 3, 4, 5, 6, 7 e 8. Observemos que as casas vazias devem ser preenchidas de maneira a formar uma sequência crescente de números, conforme indicado pelas flechas destacadas na figura a seguir.



Assim, Pedro deverá colocar as fichas como ilustrado abaixo.



*Elaborado na UFMG por Aniura Milanés Barrientos,
Bianca Silva Andrade,
Carmen Rosa Giraldo Vergara,
Leandro Augusto Rodrigues Araújo,
Nora Olinda Cabrera Zúñiga,
e Tacyany da Silva Pereira Melo.*