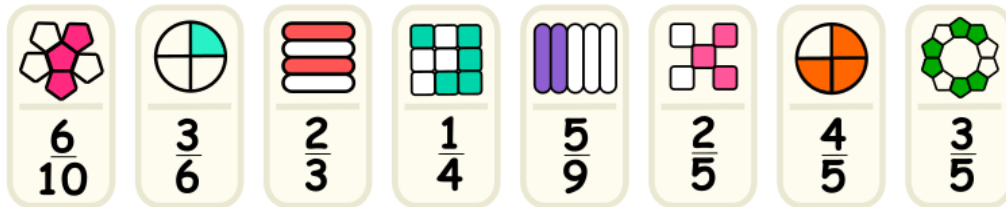
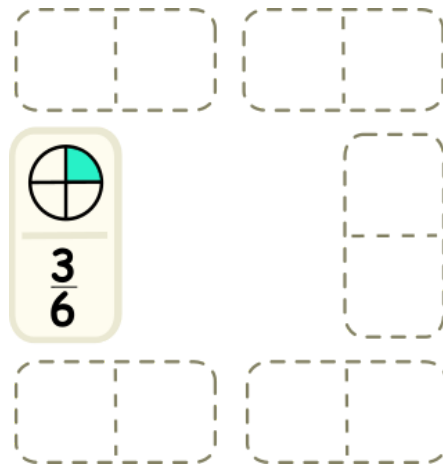


Discussão


Marta precisa completar o jogo de dominó, escolhendo 6 peças de um total de 8. Cada peça tem duas frações com representações diferentes.



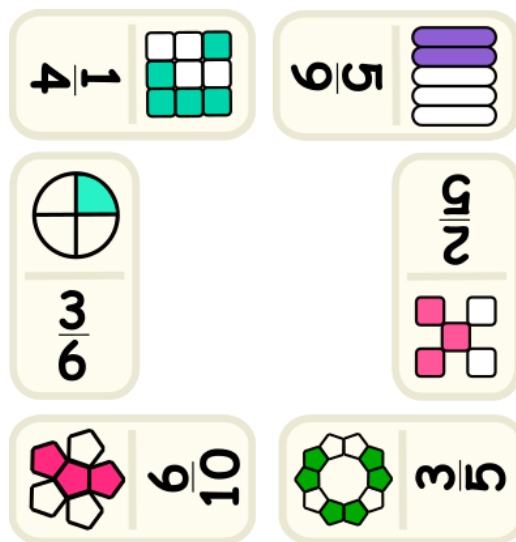
Ela já escolheu uma peça para começar.



Para completar o jogo, identifiquemos cada fração representada por desenhos nas peças de dominó.



Portanto, as 6 peças ficarão montadas como mostra a imagem abaixo.



Elaborado na UFMG por Aniura Milanés Barrientos,
 Bianca Silva Andrade,
 Carmen Rosa Giraldo Vergara,
 Leandro Augusto Rodrigues Araújo,
 Nora Olinda Cabrera Zúñiga,
 e Tacyan da Silva Pereira Melo.